

**PROVA PER A L'OBTENCIÓ DEL TÍTOL DE GRADUAT/ADA EN EDUCACIÓ SECUNDÀRIA
OBLIGATÒRIA**
*PRUEBA PARA LA OBTENCIÓN DEL TÍTULO DE GRADUADO/A EN EDUCACIÓN SECUNDARIA
OBLIGATORIA*

Primera convocatòria del curs 2022-2023
Primera convocatoria del curso 2022-2023

1r cognom <i>1^{er} apellido</i>			
2n cognom <i>2^o apellido</i>			
Nom <i>Nombre</i>			
Edat <i>Edad</i>	Data de naixement <i>Fecha de nacimiento</i>		
Localitat <i>Localidad</i>	Província <i>Provincia</i>		
Lloc on es realitza la prova <i>Lugar donde se realiza la prueba</i>			
Data <i>Fecha</i>	27 de gener de 2023 <i>27 de enero de 2023</i>		

SEGONA PART / SEGUNDA PARTE

Mòduls de l'àmbit de Ciències Socials - Módulos del ámbito de Ciencias Sociales

Versions de cada prova en valencià i en castellà - *Versiones de cada prueba en valenciano y en castellano*

	PUNTUACIÓ <i>PUNTUACIÓN</i>
• El món del treball / <i>El mundo del trabajo</i>	
• Societats, territoris i processos historicoculturals <i>Sociedades, territorios y procesos histórico-culturales</i>	

<p align="center">CRITERIS GENERALS DE QUALIFICACIÓ</p> <p>La puntuació a atorgar a cada pregunta apareix indicada entre parèntesis al final de cada ítem. A més, el professorat corrector ha d'aplicar un descompte, fins a 1 punt menys, sobre la nota final resultant, tenint en compte l'ús de la llengua en qüestions relacionades amb l'adequació, la coherència i la correcció ortogràfica.</p>	<p align="center">CRITERIOS GENERALES DE CALIFICACIÓN</p> <p><i>La puntuación otorgada a cada pregunta aparece indicada entre paréntesis al final de cada ítem. Además, el profesorado corrector aplicará un descuento, hasta 1 punto menos, sobre la nota final resultante, teniendo en cuenta el uso de la lengua en cuestiones relacionadas con la adecuación, la coherencia y la corrección ortográfica.</i></p>
---	---

EL MÓN DEL TREBALL

BLOC I. PART TEÒRICA

1. Marca amb un cercle l'opció correcta: (2 punts)

1.1. La nòmina és: (0,2 punts)

- a) Un document que la persona treballadora té dret a rebre cada mes, en el qual consten les seues retribucions i també les retencions.
- b) Un document que se li entrega a la persona treballadora en extingir la relació contractual.
- c) Un document en el qual l'empresa fa constar les habilitats socials de la persona.

1.2. La població activa... (0,2 punts)

- a) Fa referència a la població que no té actualment un lloc de treball.
- b) Fa referència a la població en edat laboral que té treball o que està en procés de buscar-ne.
- c) Persones estudiants.

1.3. L'Índex de Desenvolupament Humà es mesura tenint en consideració: (0,2 punts)

- a) Les dades macroeconòmiques.
- b) L'Índex de Preus al Consum.
- c) El Producte Interior Brut i altres dades com el grau d'alfabetització, l'índex d'escolarització, l'esperança de vida, etc.

1.4. Quan es va reconèixer per primera vegada en l'Estat espanyol el sufragi femení? (0,2 punts)

- a) En la Constitució de 1978.
- b) En la Constitució de 1812.
- c) En la Constitució de 1931.

1.5. Ciutadà és un terme que procedeix del llatí *civilis* i el seu sentit actual és: (0,2 punts)

- a) Ciutadà és la persona nascuda en una ciutat.
- b) Ciutadà és tota persona que viu a la ciutat.
- c) Ciutadà és un terme jurídic que suposa el reconeixement d'uns deures i uns drets.

1.6. El risc laboral és: (0,2 punts)

- a) Qualsevol malaltia laboral que pugua influir negativament en la seguretat i salut del treballador o la treballadora.
- b) La possibilitat que el treballador o la treballadora patisca un determinat mal a conseqüència de les condicions en les quals fa el seu treball.
- c) El resultat d'un contratemps en el lloc de treball o de camí al treball.

1.7. La valoració positiva o negativa que les persones tenen d'elles mateixes es coneix com: (0,2 punts)

- a) Sinceritat.
- b) Autoestima.
- c) Assertivitat.

1.8. El contracte de treball és: (0,2 punts)

- a) Instrument jurídic en què s'estableix la relació laboral entre ocupador o ocupadora i treballadors i treballadores.
- b) Document on es reflecteix el salari a percebre amb les retencions pertinents.
- c) Acord entre sindicats i organismes empresarials sobre les condicions laborals.

1.9. El desenvolupament sostenible és: (0,2 punts)

- a) El creixement econòmic amb l'ús indiscriminat de recursos naturals.
- b) El que té en compte la limitació dels recursos naturals.
- c) El creixement econòmic dels països desenvolupats.

1.10. Es denomina ocupació: (0,2 punts)

- a) L'activitat desplegada per l'empresariat.
- b) Tota activitat remunerada per compte d'altre.
- c) Qualsevol activitat humana.

2. Contesta les següents qüestions: (5 punts)

2.1. Enumera dos organismes públics i dues lleis o normes que vetlen per la seguretat i la salut dels treballadors i les treballadores. (1 punt)

2.2. Comenta breument què és la negociació col·lectiva. (1 punt)

2.3. Què és un currículum i quins són els apartats bàsics que ha de tindre? (1 punt)

2.4. Defineix el concepte de salari mínim interprofessional. (1 punt)

2.5. Defineix el concepte d'inflació. (1 punt)

BLOC II. APLICACIÓ DELS CONTINGUTS TEÒRICS

3. Resol i justifica els següents supòsits. (3 punts)

3.1. Supòsit 1: (1,5 punts)

Sara es troba en el seu lloc de treball i la seua coordinadora, com en altres ocasions, li demana que faça algunes tasques que la seua companya no ha acabat i que es quede temps extraordinari per a realitzar-lo sense remuneració addicional. Sara està molesta, ja que aquesta situació es produeix sovint i li sembla injust.

a) Com definiries l'assertivitat?

b) Escriu una possible resposta assertiva que Sara podria donar a la seua coordinadora.

c) Quines conseqüències pot tindre per a una persona en el món laboral l'ús d'un estil passiu-agressiu?

3.2. Supòsit 2: (1,5 punts)

Álvaro i Anna comparteixen cotxe per a estalviar despeses i contaminar menys per a anar al treball. A pocs quilòmetres per a arribar a la fàbrica, un cotxe els dona un colp per darrere. El dos tenen mal d'esquena i de cervicals.

a) De quina classe d'accident es tracta? Raona la resposta.

b) A quina prestació o assistència tenen dret?

c) Quin organisme s'encarregaria de gestionar aquesta situació?

PUNTUACIÓ EL MÓN DEL TREBALL	
------------------------------	--

EL MUNDO DEL TRABAJO

BLOQUE I. PARTE TEÓRICA

1. Marca con un círculo la opción correcta: (2 puntos)

1.1. La nómina es: (0,2 puntos)

- a) Un documento que la persona trabajadora tiene derecho a recibir todos los meses, donde consten sus retribuciones y también las retenciones.
- b) Un documento que se le entrega a la persona trabajadora al extinguir la relación contractual.
- c) Un documento en el cual la empresa hace constar las habilidades sociales de la persona.

1.2. La población activa... (0,2 puntos)

- a) Hace referencia a aquella población que no tiene actualmente un puesto de trabajo.
- b) Hace referencia a aquella población en edad laboral que tiene trabajo o que lo está buscando.
- c) Personas estudiantes.

1.3. El Índice de Desarrollo Humano se mide teniendo en consideración: (0,2 puntos)

- a) Los datos macroeconómicos.
- b) El Índice de Precios al Consumo.
- c) El Producto Interior Bruto y otros datos como el grado de alfabetización, el índice de escolarización, la esperanza de vida, etc.

1.4. ¿Cuándo se reconoció por primera vez en el Estado español el sufragio femenino? (0,2 puntos)

- a) En la Constitución de 1978.
- b) En la Constitución de 1812.
- c) En la Constitución de 1931.

1.5. Ciudadano es un término que procede del latín *civilis* y su sentido actual es: (0,2 puntos)

- a) Ciudadano es la persona nacida en una ciudad.
- b) Ciudadano es toda persona que vive en la ciudad.
- c) Ciudadano es un término jurídico que supone el reconocimiento de unos deberes y unos derechos.

1.6. El riesgo laboral es: (0,2 puntos)

- a) Cualquier enfermedad laboral que pueda influir negativamente en la seguridad y salud del trabajador o la trabajadora.
- b) La posibilidad de que el trabajador o la trabajadora sufra un determinado daño como consecuencia de las condiciones en las que realiza su trabajo.
- c) El resultado de un percance en el lugar de trabajo o de camino.

1.7. La valoración positiva o negativa que las personas tienen de ellas mismas se conoce como: (0,2 puntos)

- a) Sinceridad.
- b) Autoestima.
- c) Asertividad.

1.8. El contrato de trabajo es: (0,2 puntos)

- a) Instrumento jurídico donde se establece la relación laboral entre empleador o empleadora y trabajadores y trabajadoras.
- b) Documento donde se refleja el salario a percibir con las retenciones pertinentes.
- c) Acuerdo entre sindicatos y organismos empresariales sobre las condiciones laborales.

1.9. El desarrollo sostenible es: (0,2 puntos)

- a) El crecimiento económico con el uso indiscriminado de recursos naturales.
- b) El que tiene en cuenta la limitación de los recursos naturales.
- c) El crecimiento económico de los países desarrollados.

1.10. Se denomina empleo: (0,2 puntos)

- a) La actividad desarrollada por el empresariado.
- b) Toda actividad remunerada por cuenta ajena.
- c) Cualquier actividad humana.

2. Contesta las siguientes cuestiones: (5 puntos)

2.1. Enumera dos organismos públicos y dos leyes o normas que velen por la seguridad y la salud de los trabajadores y las trabajadoras. (1 punto)

2.2. Comenta brevemente qué es la negociación colectiva. (1 punto)

2.3. ¿Qué es un currículum y cuáles son los apartados básicos que debe tener? (1 punto)

2.4. Define el concepto de salario mínimo interprofesional. (1 punto)

2.5. Define el concepto de inflación. (1 punto)

BLOC II. APLICACIÓN DE LOS CONTENIDOS TEÓRICOS

3. Resuelve y justifica los siguientes supuestos. (3 puntos)

3.1. Supuesto 1: (1,5 puntos)

Sara está en su puesto de trabajo y su coordinadora, como en otras ocasiones, le pide que haga algunas tareas que su compañera no ha terminado y que se quede tiempo extraordinario para realizarlo sin remuneración adicional. Sara está molesta ya que esta situación se produce demasiadas ocasiones y le parece injusto.

a) ¿Cómo definirías la asertividad?

b) Escribe una posible respuesta asertiva que Sara le podría dar a su coordinadora.

c) ¿Qué consecuencias puede tener para una persona en el mundo laboral el uso de un estilo pasivo-agresivo?

3.2. Supuesto 2: (1,5 puntos)

Álvaro y Ana comparten coche para ahorrar gastos y contaminar menos para ir al trabajo. A muy pocos kilómetros para llegar a la fábrica, un coche les da un golpe por detrás. A los dos les duele la espalda y las cervicales.

a) ¿De qué tipo de accidente se trata? Razona tu respuesta.

b) ¿A qué prestación o asistencia tienen derecho?

c) ¿Qué organismo se encargaría de gestionar esa situación?

SOCIETATS, TERRITORIS I PROCESSOS HISTORICOCULTURALS

BLOC I. Definició de conceptes

1.1. Situa les següents activitats econòmiques en la columna del sector corresponent:

(1 punt)

*explotació ramadera – supermercat - mina – fàbrica de bateries de liti - bar - explotació forestal -
discoteca - fusteria - clínica de rehabilitació - fàbrica de pinsos*

SECTOR PRIMARI	SECTOR SECUNDARI	SECTOR TERCIARI

1.2. Escriu al costat de cadascun d'aquests fets històrics el segle al qual pertany. Només hi ha una resposta correcta per a cadascun: (1 punt)

IX - XV - XVIII - XIX – XX

	Carlemany, rei dels francs, és nomenat emperador.
	Conquesta de Granada pels Reis Catòlics.
	Pèrdua de Cuba després de la guerra contra els Estats Units
	Batalla d'Almansa, en la qual el Regne de València perd els seus furs.
	Caiguda de la borsa als Estats Units i inici d'una gran depressió econòmica.

1.3. Fes un cercle sobre la paraula que completa cada afirmació. Només una de les tres és la correcta en cada cas: (1 punt)

L'art renaixentista copia l'estil...	barroc	grec	romàntic
Fenomen pel qual les persones abandonen el seu país per a residir en un altre:	Immigració	Creixement vegetatiu	Emigració
És una energia renovable:	carbó	eòlica	gas
En aqueixa època apareix l'agricultura:	Neolític	Paleolític	Plistocé
El matrimoni d'Isabel i Ferran, els Reis Catòlics, estableix una aliança entre els regnes peninsulars de...	Castella i Aragó	Castella i Lleó	Catalunya i València

BLOC II. Interpretació i comentari d'un text

2. Llig amb atenció el següent text i després respon breument les preguntes que es plantegen (2 punts).

La immigració permet mantindre el creixement de la població a la Comunitat Valenciana

Si no fora per la immigració, la Comunitat Valenciana tindria un **creixement negatiu** de la població, la qual cosa seria molt mala notícia. Aquesta és una constant des de fa anys, però les dades divulgades ahir per l'Institut Nacional d'Estadística, INE, confirmen aquesta tendència; fonamental a més en un any de pandèmia, en què s'han multiplicat les morts.

Segons aquestes dades, la Comunitat Valenciana té actualment un total de 773.010 estrangers residents sobre una població de més de cinc milions de persones, a data de desembre de 2020. Cosa que converteix la valenciana en una de les autonomies amb més població immigrant. La població romanesa és la més nombrosa, amb 156.44 persones; continuen els britànics, amb 104.652; els marroquins amb 77.912 i els búlgars amb 39.613. [...]

Una aproximació més àmplia a les dades de l'INE descobreix com està creixent la població en cada autonomia. Així, en la valenciana, si s'observen les dades del primer semestre de 2020, el **creixement vegetatiu** (diferència entre naixements i defuncions) de la Comunitat Valenciana era negatiu, amb un descens de 6.815, en gran part a causa de la COVID.

No obstant això, l'arribada d'immigrants va permetre mantindre el creixement demogràfic, ja que el **saldo migratori** (diferència entre emigració i immigració) va ser positiu. També els saldos migratoris entre comunitats més positius durant el primer semestre de 2020 es van donar a la Comunitat Valenciana (1.693), Castella-la Manxa (1.359) i Galícia (818). Ben al contrari, segons l'INE, (-1.524), Comunitat de Madrid (-1.264) i Illes Balears (-1.026) van presentar els saldos més negatius. [...]

Com a dada final, la Comunitat Valenciana va ser la quarta que més va créixer en població en 2020, després de les Illes Balears, Canàries i Múrcia.

2.1. Subratlla les idees principals i fes un resum d'allò més important que el text vol transmetre. (0,8 punts)

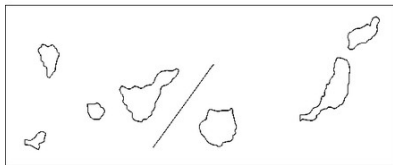
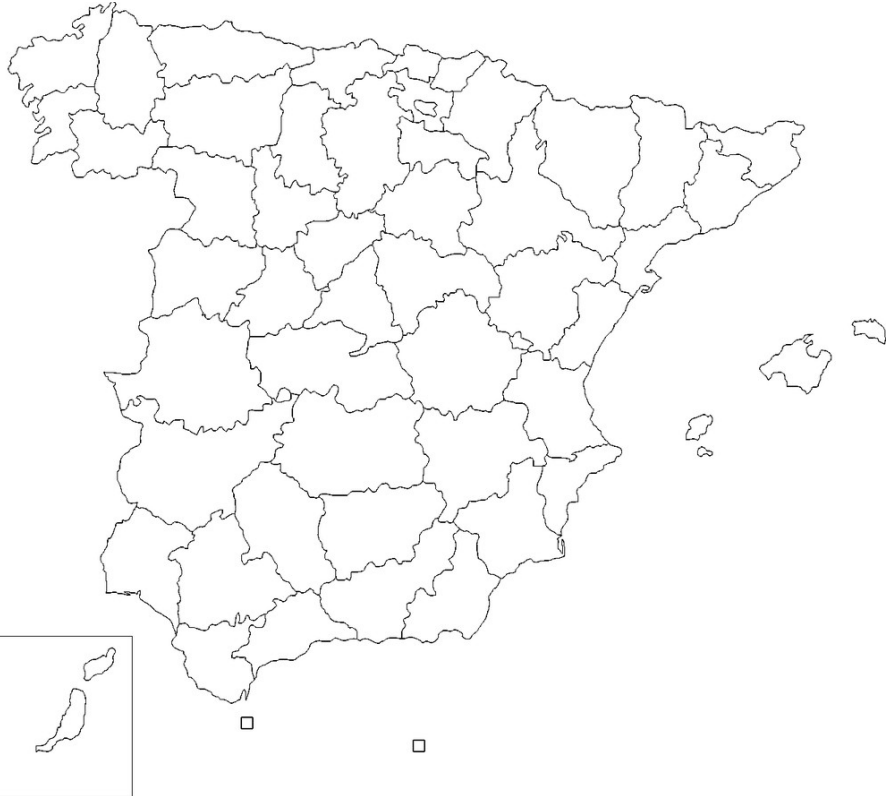
2.2. El creixement en la població valenciana és positiu o negatiu? Què vol dir això? A què es deu? (0,6 punts)

2.3. Què significa «saldo migratori»? Descriu la situació del saldo migratori a la Comunitat Valenciana. (0,6 punts)

BLOC III. Interpretació d'aquestes imatges

3.1. Situa en el mapa 10 províncies espanyoles actuals, a la teua elecció. Primer escriu-les en la llista i després situa el seu número corresponent en el mapa, ben centrat al seu lloc. (1 punt)

1	
2	
3	
4	
5	
6	
7	
8	
9	
10	



3.2. Observa aquesta fotografia i respon breument les preguntes: (1 punt)



Xiqueta treballadora, fotografia de Lewis Hine, Newberry (Carolina del Sud) (1908)

a) A quina època de la Història pertany? (0,4 punts)

b) Quina problemàtica representa? Descriu breument les condicions de vida de l'època. (0,6 punts)

3.3. Observa aquesta fotografia i respon breument les preguntes: (1 punt)



CC BY-SA 3.0

a) A quina cultura pertany? De quina època és? (0,4 punts)

b) Quina funció social tenia? Per a què servia aquesta construcció? (0,6 punts)

BLOC IV. Redacció d'opinió fonamentada sobre un tema

4. Exposa el teu punt de vista, argumentat sobre l'ús del transport públic enfront de l'ús del transport particular. (2 punts)

La redacció ha de contindre entre 150 i 200 paraules, amb introducció, desenvolupament i conclusió. No oblidis explicar les raons que fonamenten la teua opinió.

SOCIEDADES, TERRITORIOS Y PROCESOS HISTÓRICO-CULTURALES

BLOQUE I. Definición de conceptos

**1.1. Sitúa las siguientes actividades económicas en la columna del sector correspondiente:
(1 punto)**

explotación ganadera – supermercado - mina – fábrica de baterías de litio - bar - explotación forestal - discoteca - carpintería - clínica de rehabilitación - fábrica de piensos

SECTOR PRIMARIO	SECTOR SECUNDARIO	SECTOR TERCIARIO

**1.2. Escribe al lado de cada uno de estos hechos históricos el siglo que le corresponde.
Solo hay una respuesta correcta para cada uno: (1 punto)**

IX - XV - XVIII - XIX - XX

	Carlomagno, rey de los francos, es nombrado emperador
	Conquista de Granada por los Reyes Católicos
	Pérdida de Cuba tras la guerra contra los Estados Unidos
	Batalla de Almansa, en la que el Reino de Valencia pierde sus fueros
	Caída de la bolsa en Estados Unidos e inicio de una gran depresión económica

1.3. Haz un círculo sobre la palabra que responde a cada definición. Solo una de las tres es correcta en cada caso: (1 punto)

El arte renacentista copia el estilo ...	barroco	griego	romántico
Fenómeno por el que las personas abandonan su país para residir en otro:	Inmigración	Crecimiento vegetativo	Emigración
Es una energía renovable:	carbón	Eólica	gas
En esa época aparece la agricultura:	Neolítico	Paleolítico	Pleistoceno
El matrimonio de Isabel y Fernando, los Reyes Católicos, establece una alianza entre los reinos peninsulares de ...	Castilla y Aragón	Castilla y León	Cataluña y Valencia

BLOQUE II. Interpretación y comentario de un texto

2. Lee con atención el siguiente texto y luego responde brevemente a las preguntas que se te plantean. (2 puntos)

La inmigración permite mantener el crecimiento de la población en la Comunitat Valenciana

De no ser por la inmigración, la Comunitat Valenciana tendría un **crecimiento negativo** de su población, lo que sería muy mala noticia. Esta es una constante desde hace años, pero los datos divulgados ayer por el Instituto Nacional de Estadística, INE, confirman esta tendencia; fundamental además en un año de pandemia, donde se han multiplicado las muertes.

Según estos datos, la Comunitat Valenciana tiene actualmente un total de 773.010 extranjeros residentes sobre una población de más de cinco millones de personas, a fecha de diciembre de 2020. Lo que convierte a la valenciana en una de las autonomías con mayor población inmigrante. La población rumana es la más numerosa, con 156.44 personas; le siguen británicos, con 104.652; marroquíes con 77.912 y búlgaros con 39.613. [...]

Una aproximación más amplia a los datos del INE descubre cómo está creciendo la población en cada autonomía. Así, en la valenciana, si se observan los datos del primer semestre de 2020, el **crecimiento vegetativo** (diferencia entre nacimientos y defunciones) de la Comunitat Valenciana era negativo, con un descenso de 6.815, en gran parte a causa de la COVID.

Sin embargo, la llegada de inmigrantes permitió mantener el crecimiento demográfico, ya que el **saldo migratorio** (diferencia entre emigración e inmigración) fue positivo. También los saldos migratorios entre comunidades más positivos durante el primer semestre de 2020 se dieron en Comunitat Valenciana (1.693), Castilla-La Mancha (1.359) y Galicia (818). Bien al contrario, según el INE, (-1.524), Comunidad de Madrid (-1.264) e Illes Balears (-1.026) presentaron los saldos más negativos. [...]

Como dato final, la Comunitat Valenciana fue la cuarta que más creció en población en 2020, tras las Islas Baleares, Canarias y Murcia.

Salvador Enquix 13/04/2021 LA VANGUARDIA Comunitat Valenciana

2.1. Subraya las ideas principales y haz aquí un resumen de lo más importante que el texto quiere transmitir. (0,8 puntos)

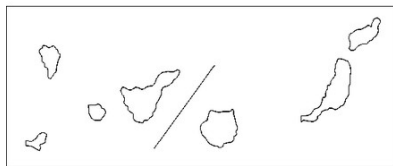
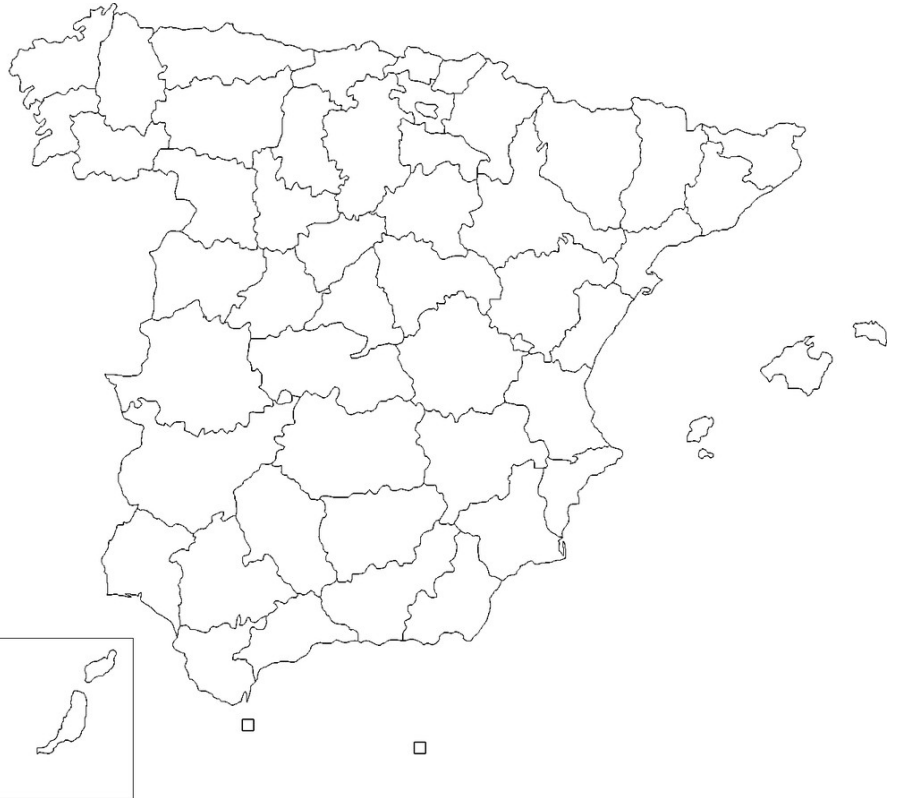
2.2. ¿El crecimiento en la población valenciana es positivo o negativo? ¿Qué quiere decir eso? ¿A qué se debe? (0,6 puntos)

2.3. ¿Qué significa saldo migratorio? Describe la situación del saldo migratorio en la Comunitat Valenciana. (0,6 puntos)

BLOQUE III. Interpretación de estas imágenes

3.1. Sitúa en el mapa 10 provincias españolas actuales, a tu elección. Primero escríbelas en la lista y luego sitúa su número correspondiente en el mapa. (1 punto)

1	
2	
3	
4	
5	
6	
7	
8	
9	
10	



3.2. Observa esta fotografía y responde brevemente a las preguntas: (1 punto)



Niña trabajadora, fotografía de Lewis Hine, Newberry (Carolina del Sur) (1908)

a) ¿A qué época de la Historia pertenece? (0,4 puntos)

b) ¿Qué problemática representa? Describe brevemente las condiciones de vida de la época. (0,6 puntos)

3.3. Observa esta fotografía y responde brevemente a las preguntas: (1 punto)



[CC BY-SA 3.0](https://creativecommons.org/licenses/by-sa/3.0/)

a) ¿A qué cultura pertenece? ¿De qué época es? (0,4 puntos)

b) ¿Qué función social tenía? ¿Para qué servía esta construcción? (0,6 puntos)

BLOQUE IV. Redacción de opinión fundamentada sobre un tema

4. Expón tu punto de vista argumentado sobre el uso del transporte público frente al uso del transporte particular. (2 puntos)

La redacción debe contener entre 150 y 200 palabras, con introducción, desarrollo y conclusión. No olvides explicar las razones que fundamentan tu opinión.